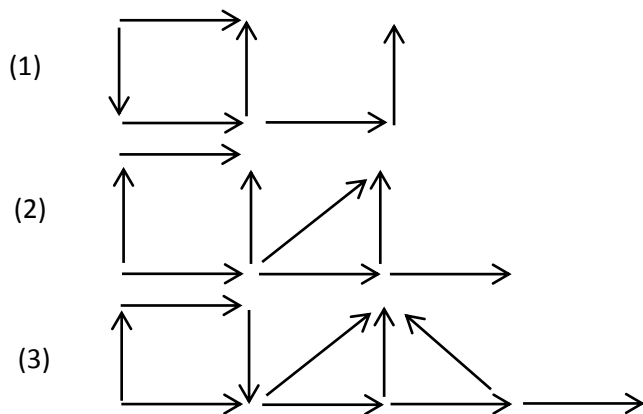


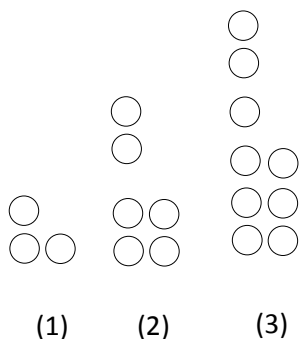
نمونه سوال فصل الگو

۱- با توجه به الگوی زیر شکل چهارم را بکشید و بگوئید شکل ۶ از چند پیکان درست شده است ؟



۲- دانش آموزان باهوش ،

- شکل پنجم الگو را رسم کنید.
- رابطه الگو را بصورت ریاضی و فارسی بنویسید.
- رابطه ریاضی شکل چهارم را بنویسید.



۳- معلم برای نصب ۳ برگه دانش آموزان به دیوار کلاس در یک ردیف از ۲ پونز استفاده کرد. برای نصب ۳۰ برگه از چند پونز استفاده می کند؟ چطور فهمیدید ؟

به نام خدا

گروه تکنولوژی و گروه های آموزشی

نمونه سوال: ریاضی

نام:

نام خانوادگی:

۴- جمع و تفریق های زیر را ذهنی حساب کنید.

$$22000 + 10000 =$$

$$2100 + 3100 =$$

$$4000 + 5000 =$$

$$70000 - 30000 =$$

۵- ضرب های زیر را به صورت ذهنی حساب کنید.

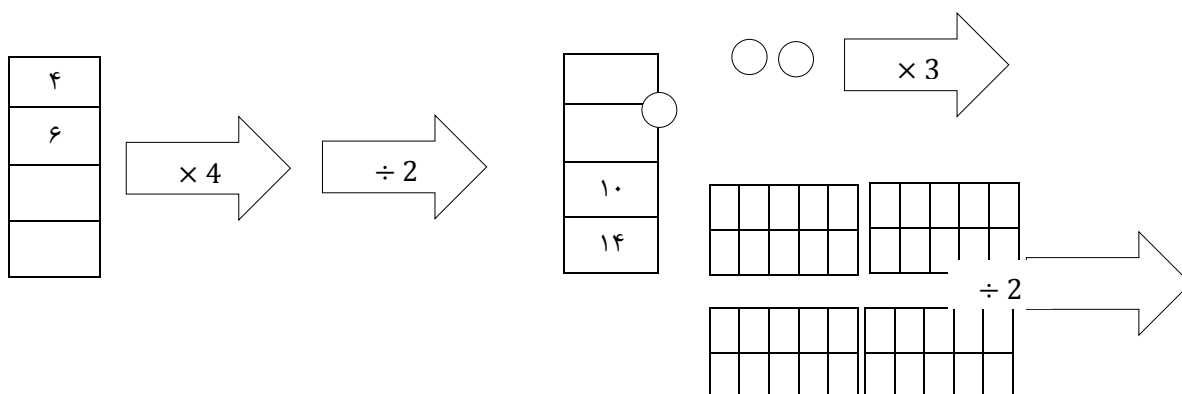
$$400 \times 200 =$$

$$300 \times 100 =$$

$$70 \times 100 =$$

$$10 \times 200 =$$

۶- با توجه به کاری که هر ماشین انجام می دهد جاهای خالی را کامل کنید.



۷- عدد ده هزار و ده را با رقم بنویسید و روی چرتکه نشان دهید.

۸- تساوی ها را کامل کنید.

$$100000 + 90 + 3000000 + 4 + 500 =$$

$$23014 + 257 =$$

نمونه سوال: ریاضی

به نام خدا
گروه تکنولوژی و گروه های آموزشی

نام:
نام خانوادگی:

۹- عددهای زیر را با رقم در جاهای خالی و علامت مناسب بگذارید.

هزارها		
صدگان	دهگان	یکان
۳	۲	۴

.....

هزارها		
صدگان	دهگان	یکان
۳	۲	۴

۱۰ - جاهای خالی را کامل کنید.

- ۱۰ تا دسته ۱۰۰۰ تایی می شود
- ۱۰۰ تا دسته ۱۰۰۰۰۰ تایی می شود

۱۱- ۱۰ مداد در یک جامدادی و ۱۰ جامدادی در یک جعبه و ۱۰ جعبه در یک کارتن و ۱۰ کارتن در یک گاری جا می شود.

- در یک جعبه چند مداد جا می شود؟
- در یک گاری چند جعبه جا می شود؟

عدد بعدی در الگوی زیر را بنویسید.

..... - ۷۶۰ - ۷۸۰ - ۸۱۰ - ۸۵۰ - ۹۰۰